


EJERCICIO DE LA FASE DE
OPOSICIÓN DE LAS PRUEBAS
SELECTIVAS PARA LA
PROVISIÓN DE PLAZAS
VACANTES DEL CUERPO
SUBALTERNO DE
ADMINISTRACIÓN GENERAL

LOGROÑO A 4 DE NOVIEMBRE DE 2006

A continuación encontrará un bloque compuesto por diferentes caracteres dispuestos sin orden alguno:



Señale las veces que aparecen en el bloque los caracteres o grupos de ellos, tal como figuran en el espacio entrecomillado de cada una de las siguientes preguntas

1. “☎️🌟📺”

- a) 7
- b) 8
- c) 6
- d) 5

2. “⬇️⬅️”

- a) 10
- b) 11
- c) 9
- d) 8

3. Un tren recorre 150 leguas en 10 horas, ¿ Cuantas leguas recorrerá en 1/5 de hora?

- a) 6
- b) 5
- c) 4
- d) 3

4. El 20 % de una cantidad es 178, ¿Cúal es esa cantidad?

- a) 770
- b) 890
- c) 22.5
- d) 923

5. Calcular: $(+4)+(-3)\times(+13)-(-5)+(-6):(+2)$:

- a) 37
- b) 6
- c) -33
- d) 33

6. ¿Cuánto vale la mitad del tercio de la cuarta parte de 72?

- a) 2
- b) 3
- c) $1/3$
- d) 4

7. ¿Cuál es la antepenúltima letra de la palabra que ocupa el centro en la frase: "los viejos dicen lo que han hecho y los necios lo que harán"?

- a) O
- b) H
- c) E
- d) C

8. En una fila hay cinco personas: Juan está sentado a la izquierda de Luis, José a la derecha de Luis, María a la izquierda de Juan y Ana a la derecha de José ¿ Quién está sentado en el centro?:

- a) Ana
- b) María
- c) Luis
- d) Juan

9. En la serie que se propone a continuación hay un número que está equivocado, ¿Cuál es? 22,32,37,46,50,58,62,68,70

- a) 68
- b) 37
- c) 46
- d) 62

10. Busque el sinónimo de tanoría:

- a) servicio doméstico
- b) tutoría
- c) ayuda
- d) auxilio

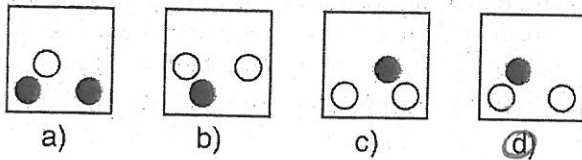

11. Qué letra ocupa el sexto lugar hacia delante a partir de la letra intermedia entre la D y la F?

- a) I
- b) H
- c) K
- d) J

12. Si M es menor que V siendo H mayor que V, entonces V es:

- a) Mayor que M
- b) Igual que H
- c) Menor que M
- d) Mayor que H

13. En la siguiente serie de figuras, escoja la figura que debe ocupar la posición central, según el razonamiento lógico de la serie



14. En ésta serie cuál sería el término siguiente:

4, 7, 6, 12, 15, 14, 28, 31

- a) 34
- b) 33
- c) 32
- d) 30

15. Qué letra continuaría la serie:

K, L, J, M, I, N, H, O,

- a) J
- b) G
- c) M
- d) P

16. Marque la pareja de palabras que no mantengan relación de sinonimia

- a) pavor-horror
- b) norte-septentrión
- c) quimera-irrealidad
- d) sórdido-limpio

17. En orden alfabético señale la palabra que iría en primer lugar
a) TRANSFORMAR b) TRANSFERIR c) TRANSPORTAR d) TRASCENDER
18. Qué grupo de letras no sigue el orden alfabético correcto:
a) GKRT b) DFWY c) FETU d) MPQU
19. Señale la palabra ortográficamente mal escrita según el diccionario de la lengua española de la Real Academia Española.
 a) Baina b) Birria c) Bisajo d) Bizco
20. 7 horas y 20 minutos mas 130 minutos es igual a :
a) 9 horas y 50 minutos
b) 8 horas y 50 minutos
c) 10 horas
 d) 9 horas y 30 minutos
21. Averiguar el número que falta siguiendo el orden lógico en la siguiente serie de números:
64, 4, 16, 8, 4, 12, 1,.....
a) 4
b) 12
c) 8
 d) 16
22. En la siguiente serie numérica 3, 9, 21, 54, 93, 189, hay un número equivocado que rompe el orden lógico, ¿cuál es?.
a) 21
 b) 54
c) 9
d) 93
23. Un producto al venderlo en 3.843 euros, proporcionó una ganancia de un 22% , ¿cuánto costó?.
a) 6.930 euros
b) 3.160 euros
c) 3.500 euros
 d) 3.150 euros

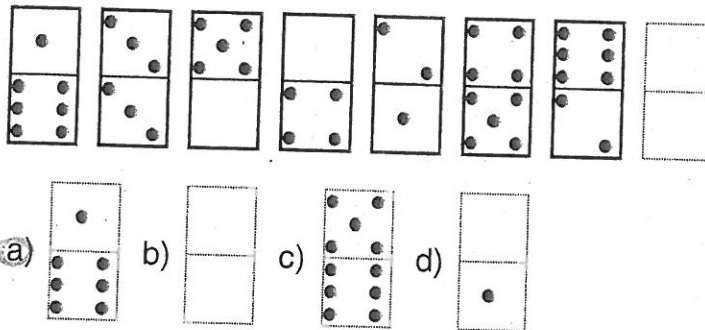
24. Una de estas series de palabras guarda el orden alfabético correcto. Indíquela:

- a) Frugal – frugalidad – frugalmente – fruición – fructificar
- b) Municipalizar – municipio – munífico – munícipe – munúsculo
- c) Oficiar – oficina – oficinesco – oficio – oficioso – ofidio
- d) Pedernal – pedestal – pediastra – pedestre – pedido – pedidor

25. De las siguientes ordenaciones alfabéticas, ¿cuál es la que no sigue el orden alfabético correcto?:

- a) Zafio – zafrá – zaga – zaguán – zahareño – zaherir
- b) Zanahoria – zanca – zancudas – zanjar – zapa – zapato
- c) Zarabanda – zarandaja – zarpa – zarza – zarzuela – zeta
- d) Zahón – zahondar – zahúrda – zahorra – zalacho – zampar

26. De la siguiente serie de fichas de dominó, seleccione el valor de la ficha de trazo discontinuo que continúa la serie.



27. Los códigos para el registro informatizado de las ventas de determinados espectáculos son, por orden, los siguientes:

Primero el nombre del espectáculo:

- Cine – pertenece al código A.
- Teatro – pertenece al código B.
- Circo – pertenece al código C.
- Deportes – pertenece al código D.

Cada letra va seguida del número de entradas.

Las entradas sacadas la última semana están codificadas con un asterisco después del número de entradas.

Siguiendo las pautas anteriores. Cómo se codificarían 4 entradas de circo, 6 entradas de teatro y 2 de la última semana de circo también:

- a) C4B6C2*
- b) C6B6C2*
- c) C2B6C2*
- d) C4B2C2*

28. Dados los siguientes números 966696996699969, agrupándolos en bloques de tres, sin cambiar el orden de los mismos, ¿qué serie de letras resultaría sabiendo que: r = 699, s = 966, t = 696, u = 969, v = 996

- a) t-s-v-r-u
- b) s-t-u-r-v
- c) s-t-v-u-r
- d) s-t-v-r-u

29. Dado el planteamiento:

$$\blacktriangle + \blacktriangledown + \blacktriangleleft = 7$$

$$\blacktriangledown = \blacktriangleleft - 1 - \blacktriangle$$

$$\blacktriangle = 0$$

¿Cuál sería el valor de \blacktriangleleft ?

- a) 2
- b) 3
- c) 4
- d) 1

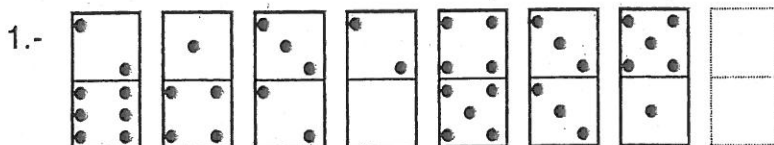
30. Completa la siguiente serie de palabras, - carro, motocicleta, automóvil, camión, furgoneta,- escogiendo de entre las propuestas aquel término que mantiene el mismo vínculo, lazo o nivel de asociación que comparten el resto de las palabras.

- a) Barco
- b) Avión
- c) Carrera
- d) Bicicleta

31. Las palabras "conspicuo" Y "engastar" tienen como sinónimo y antónimo respectivamente según el diccionario de la lengua española de la Real Academia Española:

- a) Perverso-encajar
- b) Ilustre-desencajar
- c) Vicioso-llenar
- d) Sobresaliente-embutir

32. De la siguiente serie de fichas de dominó, seleccione el valor de la ficha de trazo discontinuo que continúa la serie.



- a)
- b)
- c)
- d)

33. ¿Qué palabra de las que se proponen puede sustituir a "hética"?
- a) Injusta
 - b) Tísica
 - c) Inmoral
 - d) Gruesa
34. ¿Qué frase de las siguientes no presenta ningún error ortográfico?
- a) ¿Por qué no me dices el motivo de tu negativa?
 - b) Siempre dice sí, sí le preguntan
 - c) Me encontré totalmente sólo en aquel lugar por que ya era tarde
 - d) Mostro un gran espíritu de lucha
35. Indique a cuántos segundos equivale la suma de dos horas, treinta y siete minutos y tres segundos más una hora, diez minutos y veinticinco segundos.
- a) 13.652 segundos
 - b) 13.648 segundos
 - c) 13.650 segundos
 - d) 13.646 segundos
36. Señale cuál es la cifra mayor entre las siguientes opciones:
- a) CMXXXIV
 - b) 10^3
 - c) $(537+408)$
 - d) $1925 - (2100/3)$
37. En una librería trabajan las siguientes ocho personas: el dueño tiene 61 años; el encargado tiene 46 años; la administrativa tiene 36 años; el limpiador tiene 33 años; dos dependientes de 28 años y dos ayudantes de 24 años. ¿Cuál es la media de edad de los trabajadores de la librería?
- a) 35 años
 - b) 34 años
 - c) 36 años
 - d) 37 años

38. ¿Cuál es el resultado de la siguiente multiplicación: $0,04 \times 0,04$?

- a) 16
- b) 0,016
- c) 0,0016
- d) 0,16

39. Tenga en cuenta la siguiente tabla de equivalencias:

$N = 1$; $M = 2$; $O = 3$; $P = 4$; $Q = 5$; $R = 6$; $S = 7$; $T = 8$;

y señale entre las siguientes opciones qué igualdad es correcta:

- a) $(N+M) \times (P-O) + P = O$
- b) $R+N+M + R = P+Q$
- c) $Q \times M + N = 100 / (R+P)$
- d) $R^2 = Q^2 + O^2 + M$

40. El significado de la palabra deleznable es:

- a) Que se rompe, disgrega o deshace fácilmente
- b) Que implica o expresa angustia
- c) Sentimentalismo exagerado, trivial o fingido
- d) Que se encuentra fuera del estado o lugar de su natural asiento y acomodo

41. Si tenemos 100 cajas de cartón que miden cada una cincuenta centímetros de anchura, cincuenta centímetros de altura y cincuenta centímetros de profundidad; y queremos apilarlas de tal modo que no se superen los tres metros de altura, los cuatro metros de anchura y un metro de profundidad; ¿cuántas cajas me sobrarán?

- a) 2
- b) 3
- c) 4
- d) 5

42. Hoy es lunes, ¿Qué día de la semana será dentro de 58 días?

- a) Martes
- b) Miércoles
- c) Jueves
- d) Viernes

43. Mi padre tiene veinte años menos que mi abuelo y tres años más que mi madre; yo nací cuando mi madre tenía 26 años y mi hermano nació cinco años después. Si hoy es el duodécimo cumpleaños de mi hermano, ¿cuántos años tiene hoy mi abuelo?
- a) 66 años
 b) 68 años
 c) 70 años
 d) 72 años
44. Aderezar, alinear o componer es según el diccionario de la lengua española de la Real Academia Española:
- a) Descolar
 b) Bellotear
 c) Deliñar
 d) Angular
45. Si en la carnicería pedimos seis medios de un cuarto de medio kilo de ternera, ¿cuántos gramos de carne estamos comprando?
- a) 380 gramos de ternera
 b) 375 gramos de ternera
 c) 370 gramos de ternera
 d) 365 gramos de ternera
46. En una comida familiar el tío Bernardo le preguntó a Laura cuántos años tenía. Anteayer tenía 15 años – dijo Laura – y el año que viene cumpliré 18 años. ¿Qué día es el cumpleaños de Laura?
- a) 30 de diciembre
 b) 31 de diciembre
 c) 1 de enero
 d) 2 de enero

47. Indique cuántas filas de la columna A coinciden con las filas correspondientes de la columna B en la siguiente tabla:

	Columna A	Columna B
FILA 1	□ ▽ ● ○ ■ ▽ ● □ ▽ □	□ ▽ ● ○ ■ ▽ ● □ ▽ □
FILA 2	● □ ■ ▽ ● ▽ □ ▽ ○ ●	● □ ■ ▽ ● ▽ □ ▽ ○ ●
FILA 3	■ ▽ ● ○ ▽ □ ▽ ○ ▽ □	□ ▽ ● ▽ ○ □ ▽ ○ ▽ □

- a) 3
 b) 2
 c) 1
 d) 0

