



**PRUEBAS LIBRES PARA LA OBTENCIÓN DEL TÍTULO  
DE GRADUADO EN EDUCACIÓN SECUNDARIA**

**Convocatoria de 6 de junio de 2014**

<b>GRUPO SOCIAL</b>	
<b>Ciencias Sociales, Geografía e Historia – Educación Plástica y Visual y Música – Educación y Ciudadanía</b>	
<b>DATOS DEL ASPIRANTE</b>	<b>CALIFICACIÓN</b>
<b>Apellidos:</b> _____	<b>CS:</b> _____
<b>Nombre:</b> _____	<b>PM:</b> _____
<b>DNI:</b> _____	<b>EC:</b> _____
	<b>TOTAL:</b> _____

<b>INSTRUCCIONES GENERALES</b>
<p><b>Hora de comienzo:</b> 12:30. <b>Duración:</b> 1 hora y 30 minutos.</p> <ul style="list-style-type: none"><li>• Haga una lectura pausada de las cuestiones antes de escribir la respuesta.</li><li>• Debajo del enunciado de cada ejercicio hay espacio suficiente para la realización del mismo, no considerándose cualquier parte de la resolución que vaya fuera de ese espacio. <u>El reverso de las hojas podrá ser utilizado para operaciones u otros planteamientos en sucio.</u></li><li>• Junto al enunciado de cada ejercicio figura la puntuación máxima asignada al mismo en caso de ser correctamente realizado.</li><li>• Realice primero aquellos ejercicios que tenga seguridad en su resolución. Deje para el final aquellos que tenga dudas.</li><li>• Cuide la presentación y escriba el proceso de solución de forma ordenada.</li><li>• Antes de entregar los ejercicios, revíselos minuciosamente.</li></ul>

Nº DE ORDEN

## Ciencias Sociales, Geografía e Historia (20 puntos)

### 1. (1 punto) Mapa político de España.

Sitúe en el mapa los números correspondientes a las siguientes provincias:

- 1.- Lugo
- 2.- Cáceres
- 3.- Murcia
- 4.- Valladolid
- 5.- Toledo
- 6.- Málaga
- 7.- Teruel
- 8.- Vizcaya
- 9.- Lérida
- 10.- Castellón



**2. (0,5 puntos) Mapa político de Europa.**

Sitúe en el mapa los números correspondientes a los siguientes países:

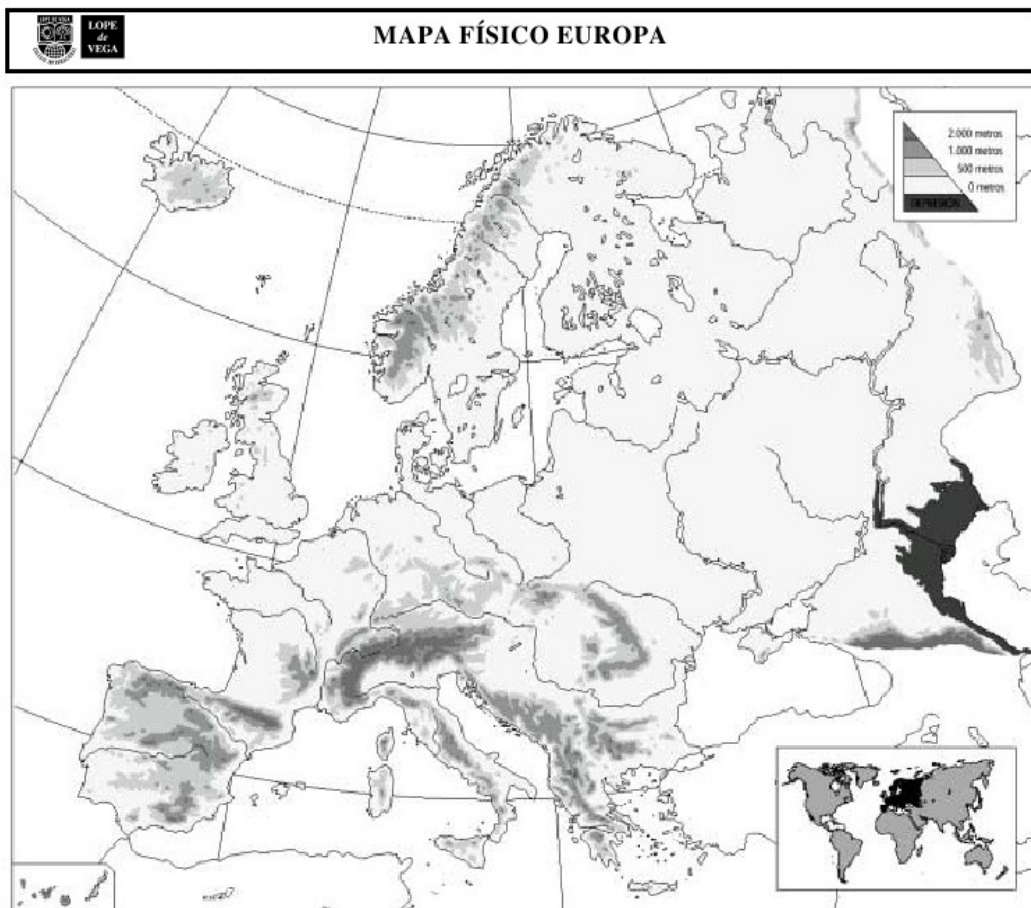
- 1.- Ucrania
- 2.- Polonia
- 3.- Croacia
- 4.- Noruega
- 5.- Estonia



3. (0,5 puntos) Mapa físico de Europa.

Sitúe en el mapa los números correspondientes a los siguientes accidentes geográficos:

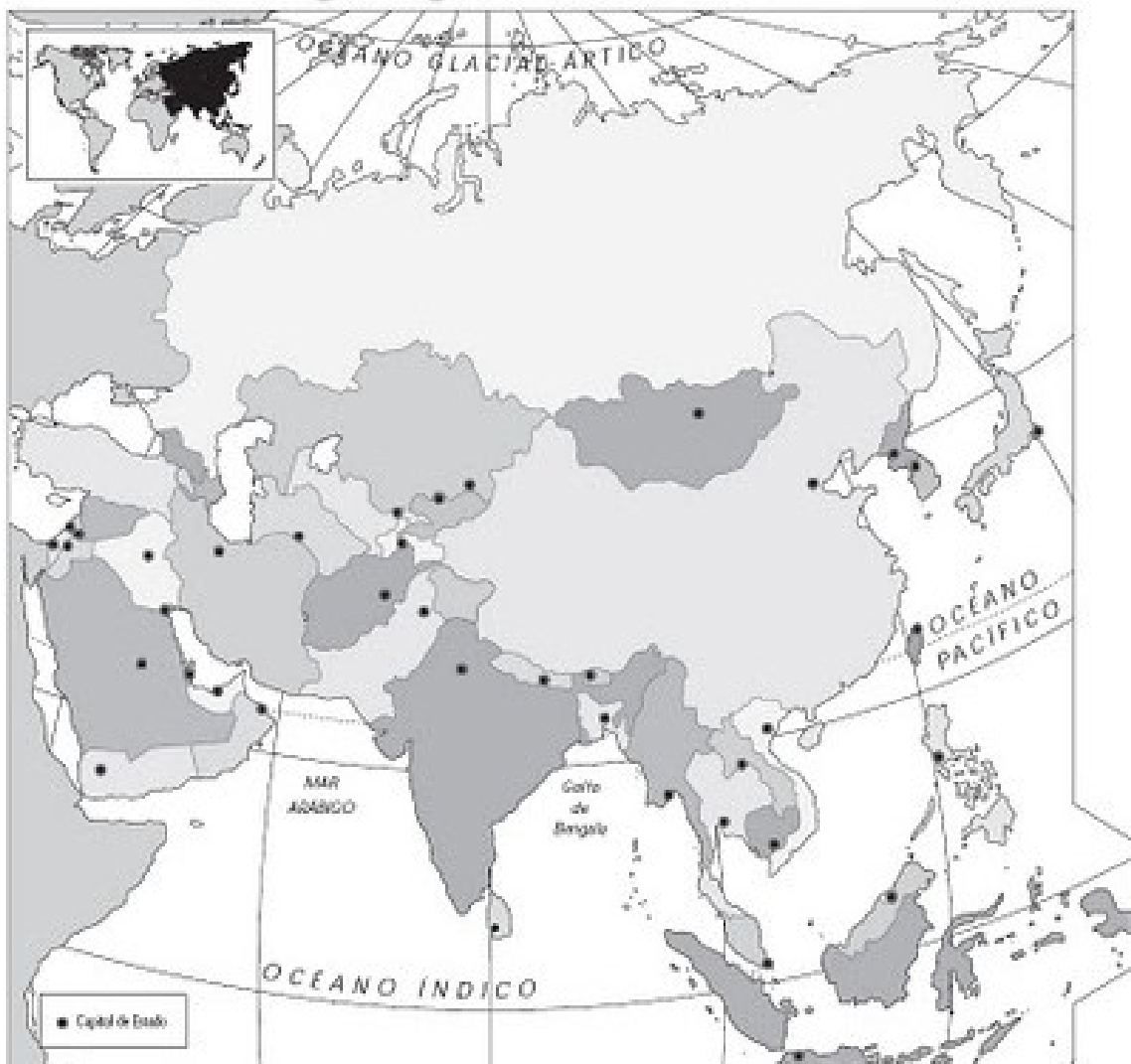
- 1.- Danubio
- 2.- Volga
- 3.- Cáucaso
- 4.- Balcanes
- 5.- Alpes



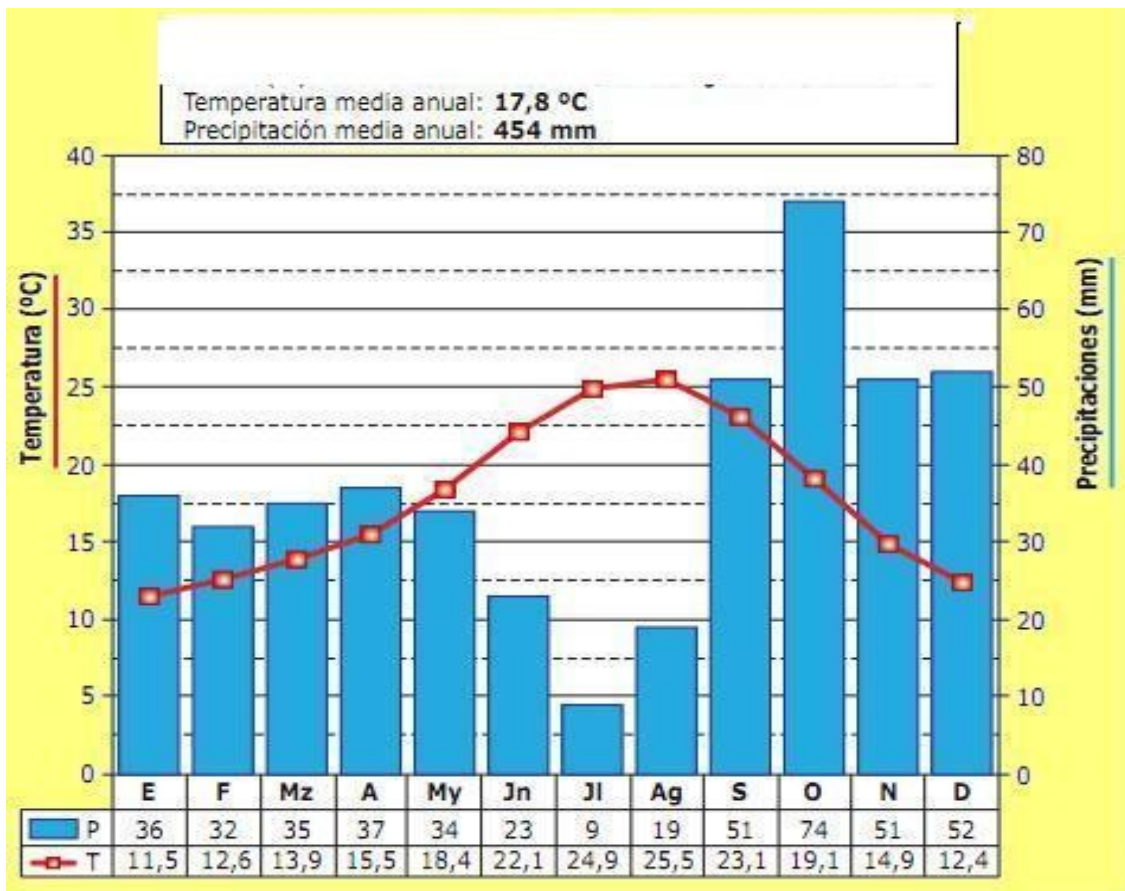
4. (1 punto) Mapa político de Asia.

Sitúe en el mapa los números correspondientes a los siguientes países:

- 1.- Corea del Norte
- 2.- Mongolia
- 3.- Pakistán
- 4.- Filipinas
- 5.- Yemen
- 6.- Sri Lanka
- 7.- Laos
- 8.- Indonesia
- 9.- Afganistán
- 10.- Irán



5. (2 puntos) Comente el siguiente *climograma*.



6. (2 puntos) Defina movimiento migratorio, explique sus causas y los diferentes tipos de migraciones.

7. (2 puntos) Explique los factores físicos y humanos de la agricultura.



**8. (1 punto)** Defina los siguientes conceptos:

- Balanza de pagos:

- Poder legislativo:

- Tasa de natalidad:

- Sector servicios:

- Industria básica:

**9. (3 puntos)** Explique las causas del imperialismo europeo del s. XIX.

**10. (3 puntos)** Explique las consecuencias de la I Guerra Mundial y la organización de la paz.

**11. (1 punto)** Defina los siguientes conceptos:

- Antiguo Régimen:

- Revolución Industrial:

- Revolución bolchevique:

- Fascismo:

- *Crack* de 1929:

**12. (3 puntos)** Explique qué se entiende por “guerra fría”, señale sus etapas e indique por orden cronológico los conflictos de cada una de ellas.

## **Educación Plástica y Visual y Musica (6 puntos)**

**1. (1 punto)** Defina los siguientes conceptos:

- Canon:

- Perspectiva:

- Litografía:

- Cubismo:

**2. (1 punto)** Defina “colores primarios” y “colores secundarios” y cítelos.

**3. (1 punto)** Clasifique los triángulos según la medida de sus lados y sus ángulos.

4. (1 punto) Defina los siguientes conceptos musicales.

- Síncopa:
  
- Puntillo:
  
- Timbre:
  
- Tempo o movimiento:

5. (1 punto) Clasifique los siguientes instrumentos musicales según la familia a la que pertenecen: viento madera, viento metal, cuerda y percusión (marca una **X** en la columna correspondiente).

<b>Instrumento</b>	<b>Viento madera</b>	<b>Viento metal</b>	<b>Cuerda</b>	<b>Percusión</b>
Clarinete				
Timbal				
Violonchelo				
Tuba				
Trombón				
Contrabajo				
Xilófono				
Oboe				
Violín				
Fagot				

6. (1 punto) Coloque detrás de cada obra el número del autor correspondiente.

- 1.- Verdi
- 2.- Mozart
- 3.- Wagner
- 4.- Rossini
- 5.- Puccini

<b>Obra</b>	<b>Número</b>
El barbero de Sevilla	
La Traviata	
Tristán e Isolda	
Tosca	
Don Giovanni	

## Educación y Ciudadanía (4 puntos)

1. (2 puntos) Coloque detrás de cada uno de los hitos en la conquista de los derechos humanos el número de la fecha correspondiente.

	Hito	Número
1.- 1789	Fundación de la ONU	
2.- 1688	Democracia ateniense	
3.- S. III d. C.	Independencia de EEUU	
4.- 1948	Extensión de la ciudadanía romana a todo el Imperio por Caracalla	
5.- 1215	Declaración Universal de Derechos Humanos	
6.- 1998	Revolución Francesa	
7.- S. V a. C.	Carta Magna inglesa que limita el poder de Juan Sin Tierra	
8.- 1776	Corte Penal Internacional y Tribunal Internacional de La Haya	
9.- 1945	Derecho al voto de la mujer en España	
10.- 1931	Revolución Gloriosa inglesa (primera monarquía parlamentaria)	

1. (2 puntos) Defina los siguientes conceptos:

- Políticas de discriminación positiva:

- Feminismo de la igualdad:

- Crímenes contra la humanidad:

- Globalización:

- Dignidad: