

PRUEBAS LIBRES PARA LA OBTENCIÓN DEL TÍTULO DE  
GRADUADO EN EDUCACIÓN SECUNDARIA. Septiembre 2.011

ÁMBITO SOCIAL

Datos del aspirante

Apellidos.....

Nombre.....

D.N.I.....

INSTRUCCIONES GENERALES

Hora de comienzo 12,15 horas

Duración: Una hora y media

- Haga una lectura pausada de las cuestiones antes de escribir la respuesta.
- Realice primero aquellos ejercicios que tenga seguridad en su resolución. Deje para el final aquellos que tenga dudas.
- Cuide la presentación y escriba el proceso de solución de forma ordenada.
- Antes de entregar los ejercicios, revíselos minuciosamente.

1.- Mapa político de España: (1 punto)

- Sitúa en el mapa las siguientes provincias: Lugo; Palencia; Huesca; Zamora; Albacete; Huelva; Alicante; Cáceres; Cuenca y Tarragona.


### MAPA POLÍTICO ESPAÑA

Escala: 1:100.000

OCEANO  
ATLÁNTICO

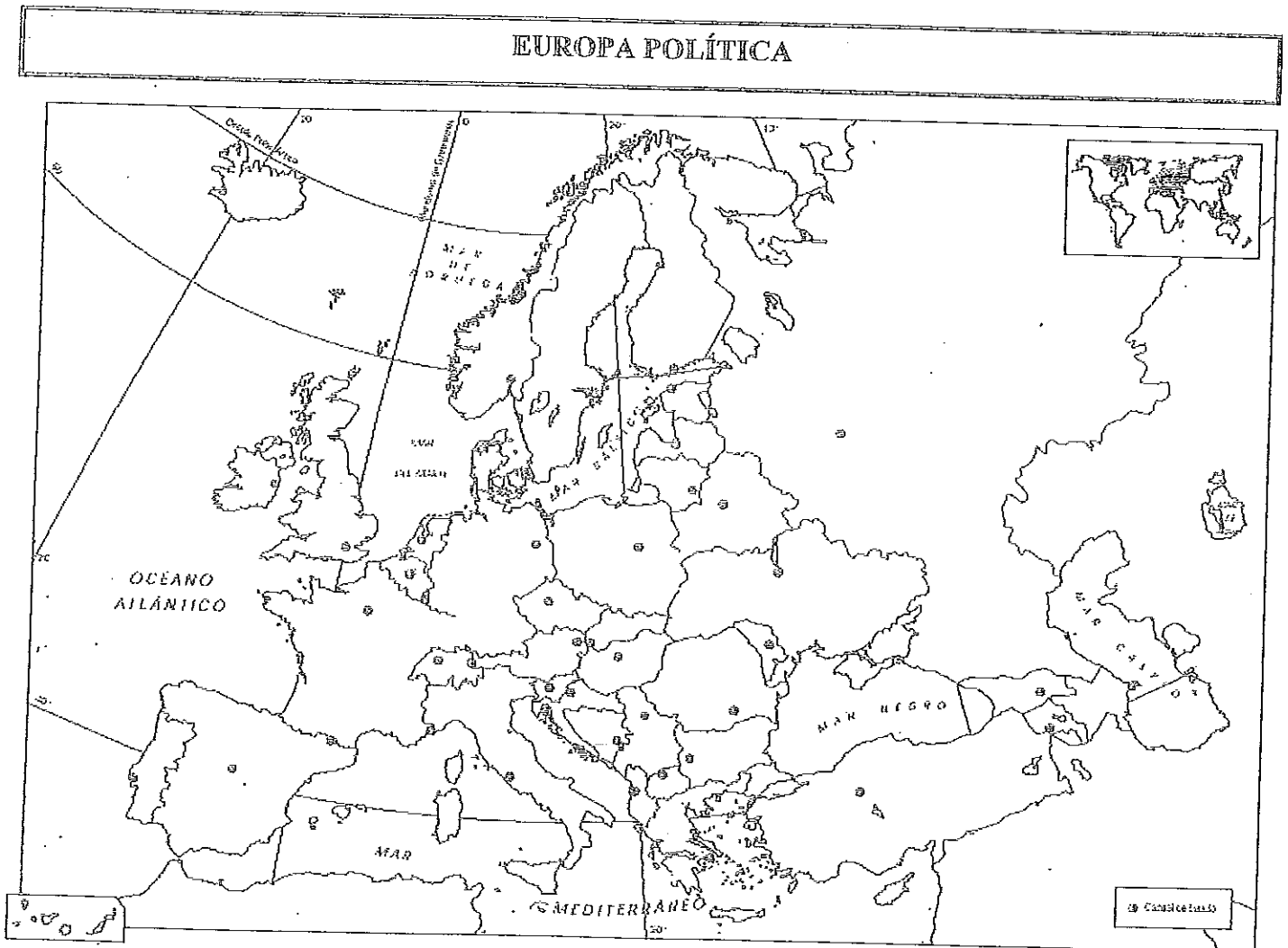
MAR CANARIAS

MAR  
MEDITERRANEO



2.- Mapa-político de Europa. (1 punto)

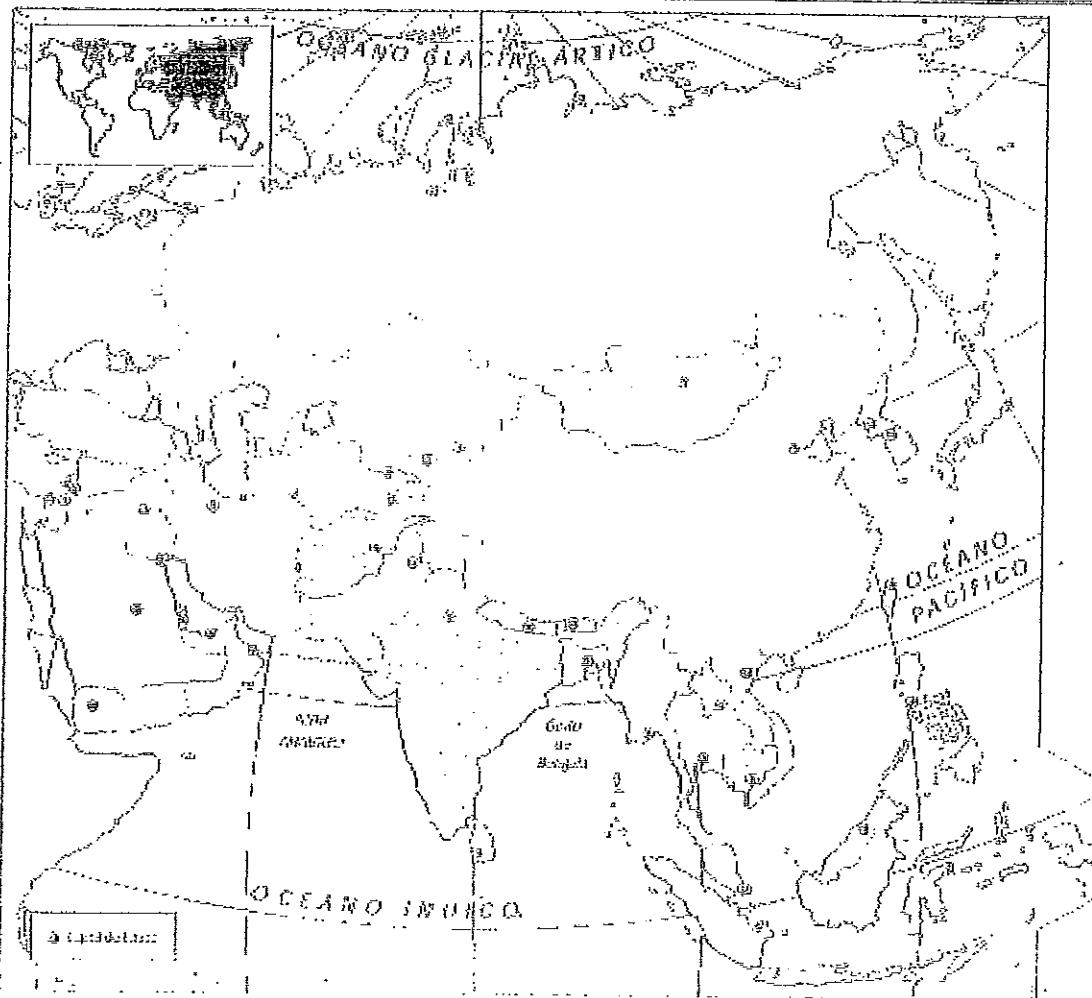
Sitúa en el mapa: Georgia; Estonia; Austria; Finlandia; Luxemburgo; Macedonia; Irlanda; Albania; Hungría y Ucrania.



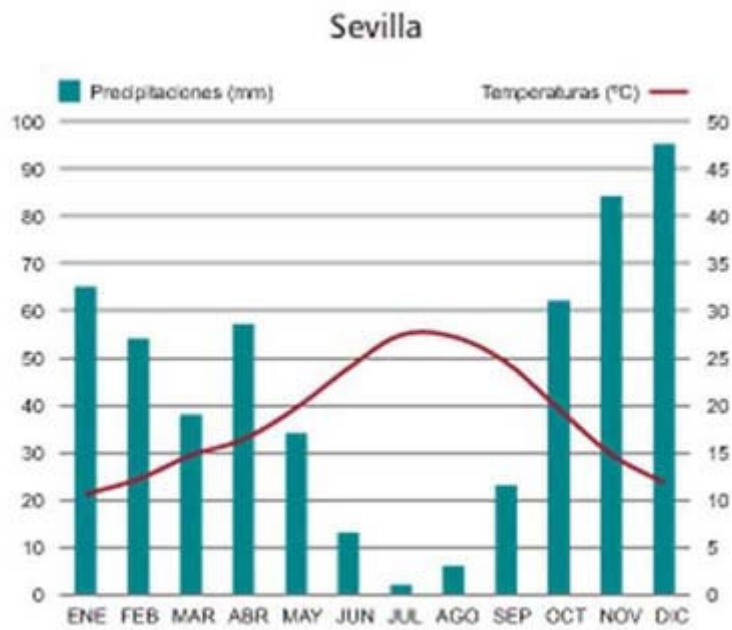
3.- Mapa político de Asia. (1 punto).

Sitúa en el mapa: Irak; Corea del Sur; Mongolia; Vietnam; Filipinas; Afganistán; India; Indonesia Birmania y Arabia Saudí.

### ASICA POLÍTICA



4.- Analiza el siguiente climograma. (tres puntos)



5.\_ Comenta la distribución de la población actual a nivel español y mundial y los factores que explican tal distribución. (Tres puntos)

6.- Define los siguientes términos: (Dos puntos)

.- Monopolio.

.- Esperanza de vida.

.- Agricultura itinerante por el fuego.

.- Plan Ildefonso Cerdá.

.- OPEP.

7.- La Revolución Francesa. (Tres puntos)



8.- El imperialismo en el siglo XIX: factores que nos lo explican; formas de colonización; y principales imperios. ( Tres puntos).

9.- Define: (dos puntos)

.- Despotismo Ilustrado.

.- Anarquismo

.- Guerra Fría.

.- La Restauración.

.- Tratado de Versalles.

10.- Enumera cronológicamente los siguientes acontecimientos. (1 punto)

.- Independencia de Estados Unidos de América.

.- Guerra de Vietnam

.- Primera República Española.

.- Guerra Napoleónicas.

.- Revolución rusa.

**EDUCACIÓN PLÁSTICA, VISUAL Y MUSICAL. (SEIS PUNTOS)**

**1.- Define un poliedro y cita dos de ellos. (1punto)**

**2.- En un mapa de escala 1/25.000 una distancia de 5 cm en el plano a que distancia real corresponde. (1punto)**

**3.- Dibuja: Un ángulo obtuso; Un romboide; Una mediatriz; Un triángulo escaleno y un prisma. (1punto)**

**4.- Ordena estas voces por su tesitura (empieza por la más aguda y deja para el final la más grave). (1punto)**

**Hombres: Barítono; Tenor y Bajo.**

**Mujeres: Soprano; Contralto y Mezzosoprano.**

**5.- Relaciona los siguientes autores con sus países de origen: (1punto)**

<b>Beethoven</b>	<b>Noruega.</b>
<b>Grieg</b>	<b>Finlandia</b>
<b>Granados</b>	<b>Austria</b>
<b>Mozart</b>	<b>España</b>
<b>Sibelius.</b>	<b>Alemania</b>

**6.- Define el significado de ópera y cita tres autores representativos. (1punto)**

## **Educación para la Ciudadanía**

**1.- ¿Qué rasgos destacarías en toda democracia? (Dos puntos)**

**2.- ¿Qué se entiende por globalización? (Dos puntos)**