

**PRUEBAS LIBRES PARA LA OBTENCIÓN DEL TÍTULO DE
GRADUADO EN EDUCACIÓN SECUNDARIA
(Resolución nº 1262 de 24 de marzo de 2010)**

ÁMBITO SOCIAL

Datos del aspirante

Apellidos.....

Nombre.....

D.N.I.....

INSTRUCCIONES GENERALES

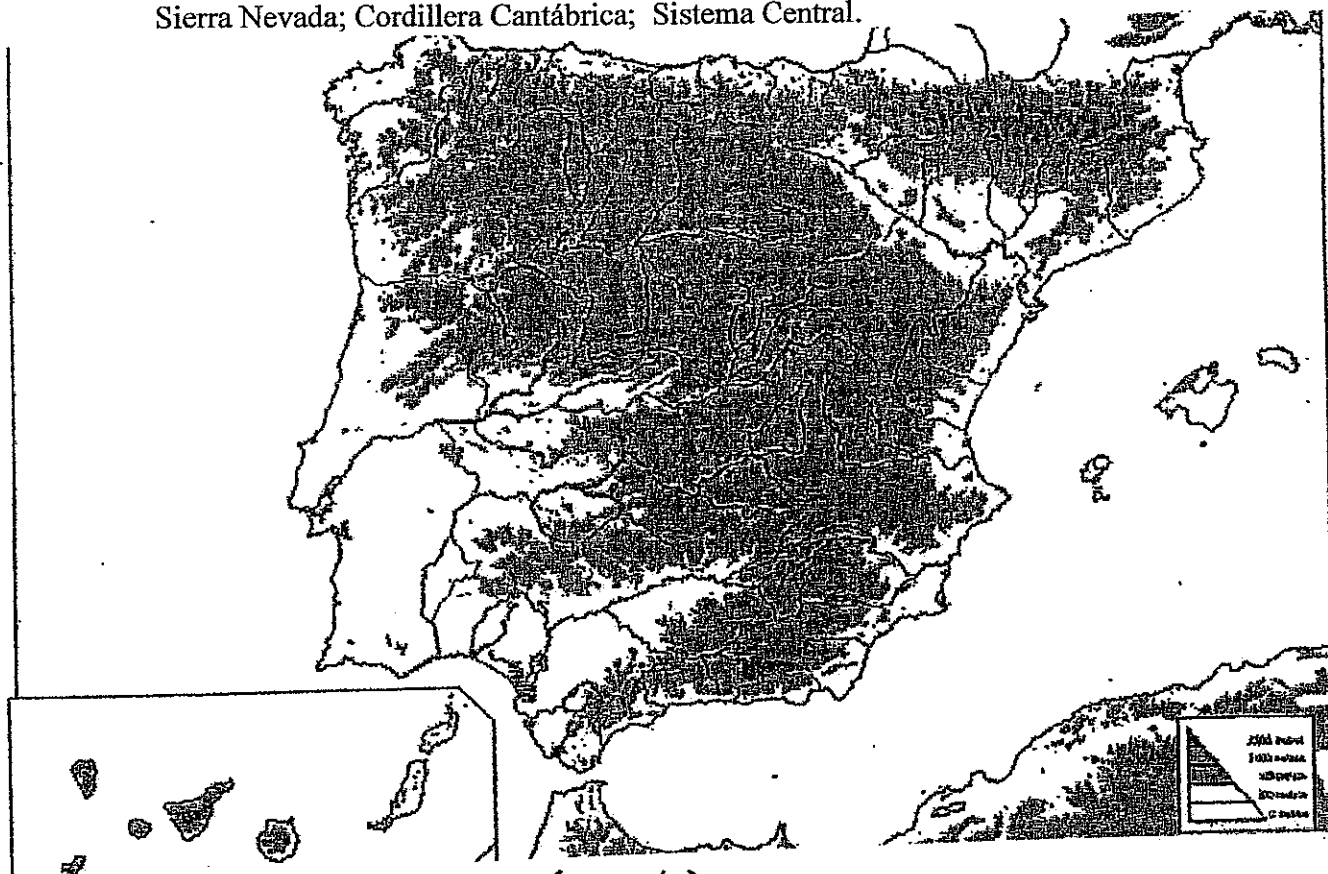
Hora de comienzo 12,15 horas

Duración: Una hora y media

- .- Haga una lectura pausada de las cuestiones antes de escribir la respuesta.**
- .- Realice primero aquellos ejercicios que tenga seguridad en su resolución. Deje para el final aquellos que tenga dudas.**
- .- Cuide la presentación y escriba el proceso de solución de forma ordenada.**
- .- Antes de entregar los ejercicios, revíselos minuciosamente.**

1.- Mapa físico de España. (1 punto)

Sitúa en el mapa los siguientes sistemas montañosos: Sierra Morena; Sistema Ibérico; Sierra Nevada; Cordillera Cantábrica; Sistema Central.



2.- Mapa político de España: (1 punto)

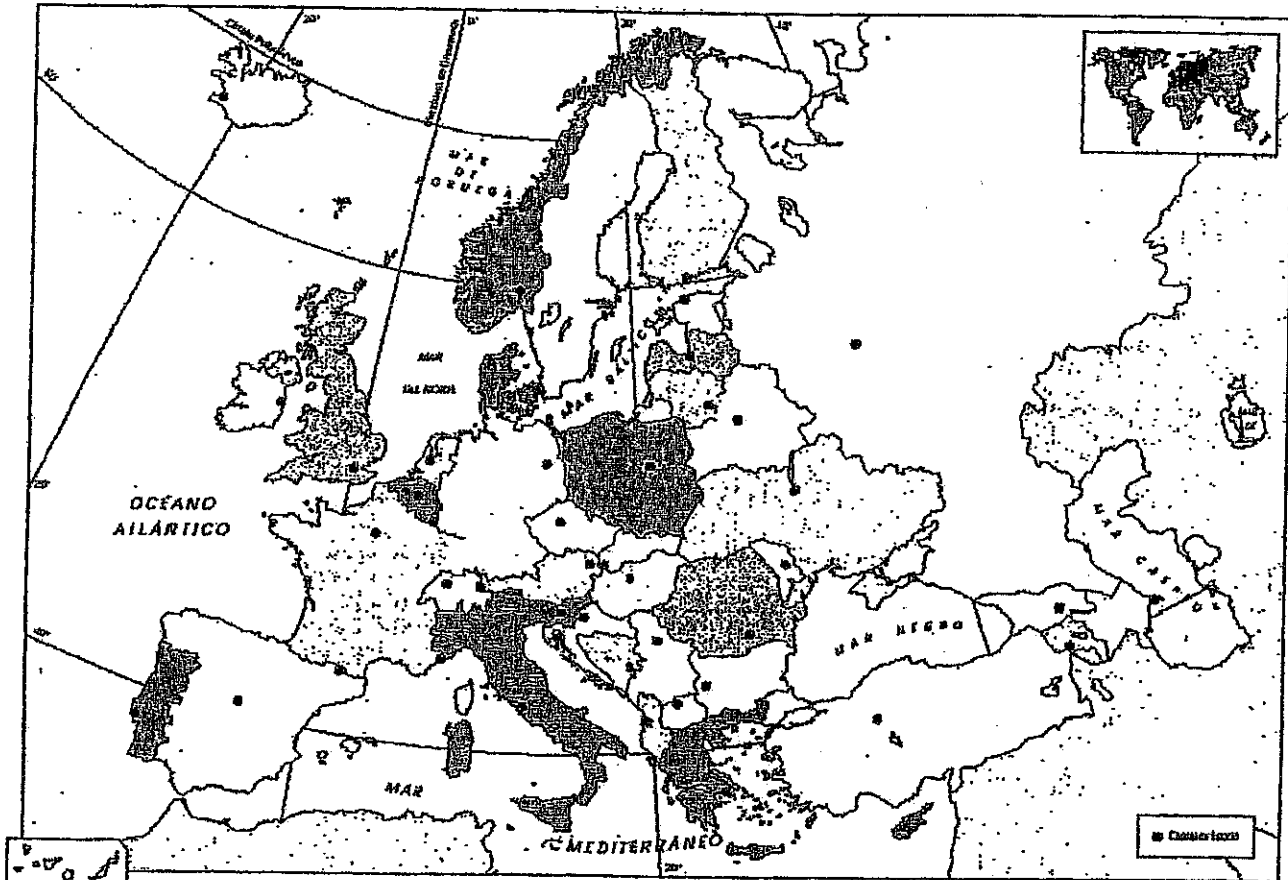
Sitúa en el mapa las siguientes provincias.: Lugo; Salamanca; Alava; Huesca; Tarragona; Albacete; Córdoba; Cáceres; Toledo y Cantabria.



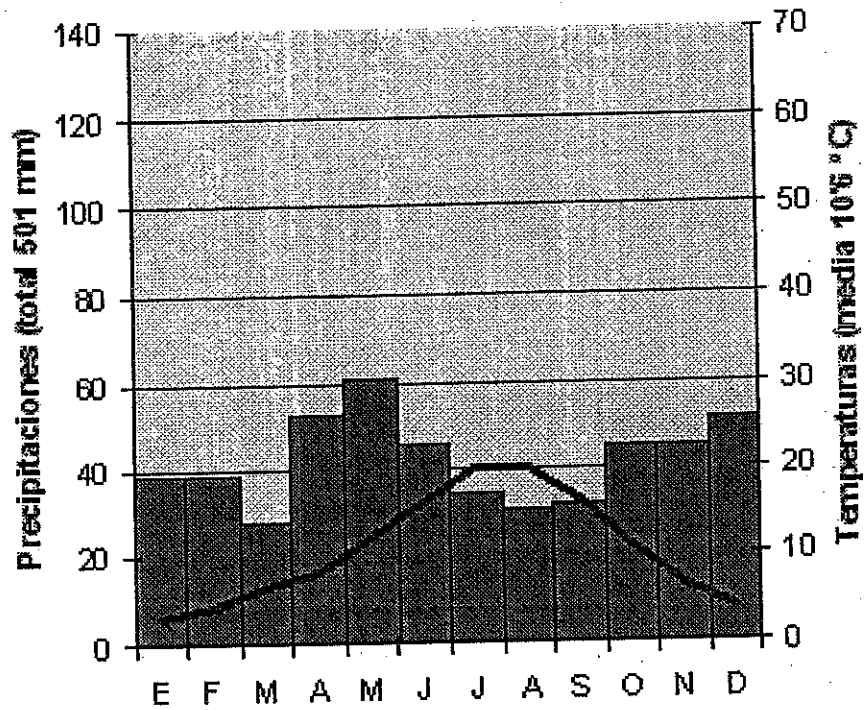
3.- Mapa Político de Europa: (4 punto)

Sitúa en el mapa las siguientes naciones:

Islandia; Suecia; Bielorusia; Georgia; Serbia; Austria; Alemania; Irlanda; Grecia y Rumania.



4.- Analiza el siguiente climograma (Tres puntos)



5.- Define los siguientes términos: Plataforma Continental; Latifundio; Megalópolis; Siderurgia; Arancel. (Dos puntos).

6.- Explica la evolución del crecimiento demográfico de un país europeo desde la Revolución Industrial hasta hoy distinguiendo las distintas fases (Tres puntos)

7.- La Primera Guerra Mundial. (Tres puntos)

8.- El colonialismo en el siglo XIX (Tres puntos)

9.- Relaciona los siguientes términos colocando los números de la columna izquierda con los que correspondan con los de la derecha: (1 punto)

- | | |
|----------------|---------------------|
| 1 Lenin | Revolución Francesa |
| 2 Fleming | Picasso |
| 3 Época Azul | II República |
| 4 Robespierre | Penicilina |
| 5 Manuel Azaña | Revolución Rusa. |

10.- Enumera por orden cronológico los acontecimientos siguientes: (1 punto)

- Tratado de Versalles.
- Conferencia de Yalta
- La I República española.
- Las Guerras Napoleónicas.
- La Guerra de Vietnam.

11.-.- Relaciona los personajes siguientes colocando los números de la columna izquierda con los que correspondan con las naciones de la derecha: (1 punto)

- | | |
|----------------|-------------|
| 1 Bismark | Italia |
| 2 Garibaldi | Reino Unido |
| 3 Severo Ochoa | Alemania |
| 4 Pasteur | España |
| 5 Turner | Francia |

EDUCACION PLÁSTICA Y VISUAL Y MUSICAL (seis puntos)

1.- Cita tres compositores españoles de los siglos XIX y XX (1 punto)

2.- Define ópera y escribe dos autores de ópera. (1 punto)

3.- Empareja los siguientes autores con su obra (1 punto)

Mozart	Carmen
Dvorak	Las cuatro estaciones
Bizet	Marcha Radetzki
Strauss	Requiem
Vivaldi	Sintonía del nuevo mundo

4.- Cita tres colores primarios y tres secundarios. (1 punto)

5.- Trabajamos en una escala 1/25. Una medida del plano de 25 cm. ¿Cuánto medirá en realidad?. (1 punto)

6.- Clasifica los triángulos en función de sus lados. (1 punto)

Educación para la Ciudadanía.

1.- Redacta una serie de pautas de actuación sobre los discapacitados. (dos puntos)

2.- Explica los problemas en que se puede encontrar una sociedad consumista, tanto a nivel individual como global. (dos puntos).