



**PRUEBAS LIBRES PARA LA OBTENCIÓN DEL TÍTULO
DE GRADUADO EN EDUCACIÓN SECUNDARIA**

Convocatoria de 5 de septiembre de 2014

GRUPO SOCIAL	
Ciencias Sociales, Geografía e Historia – Educación Plástica y Visual y Música – Educación y Ciudadanía	
DATOS DEL ASPIRANTE	CALIFICACIÓN
Apellidos: _____	CS: _____ TOTAL:
Nombre: _____	PyM: _____
DNI: _____	EC: _____

INSTRUCCIONES GENERALES
<p>Hora de comienzo: 12:30. Duración: 1 hora y 30 minutos.</p> <ul style="list-style-type: none">• Haga una lectura pausada de las cuestiones antes de escribir la respuesta.• Debajo del enunciado de cada ejercicio hay espacio suficiente para la realización del mismo, no considerándose cualquier parte de la resolución que vaya fuera de ese espacio. <u>El reverso de las hojas podrá ser utilizado para operaciones u otros planteamientos en sucio.</u>• Junto al enunciado de cada ejercicio figura la puntuación máxima asignada al mismo en caso de ser correctamente realizado.• Realice primero aquellos ejercicios que tenga seguridad en su resolución. Deje para el final aquellos que tenga dudas.• Cuide la presentación y escriba el proceso de solución de forma ordenada.• Antes de entregar los ejercicios, revíselos minuciosamente.

Nº DE ORDEN

--

Ciencias Sociales. Geografía e Historia (20 puntos)

(1 punto)1.- Mapa político de España

Sitúe en el mapa los números correspondientes a las siguientes provincias:

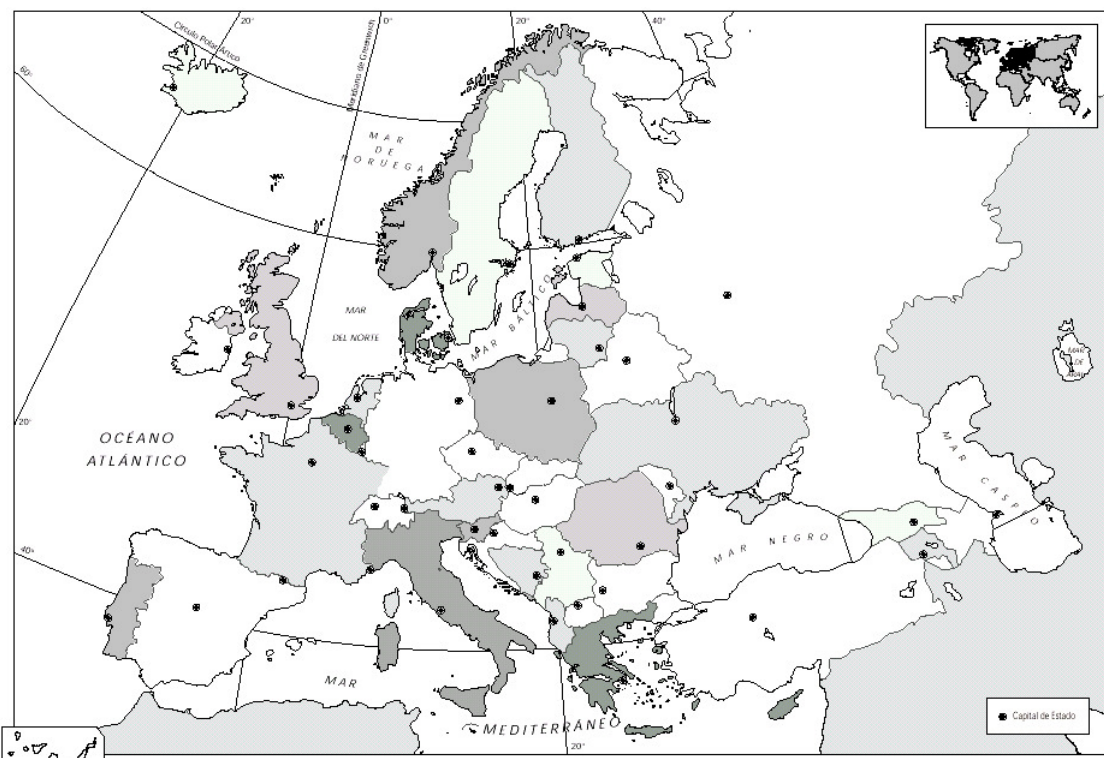
- 1.- Málaga
- 2.- Sevilla
- 3.- Zaragoza
- 4.- Orense
- 5.- Guipúzcoa
- 6.- Zamora
- 7.- Palencia
- 8.- Murcia
- 9.- Guadalajara
- 10.- Badajoz



(2 puntos) 2.- Mapa político de Europa

Sitúe en el mapa los números correspondientes a los siguientes países e indique su capital.

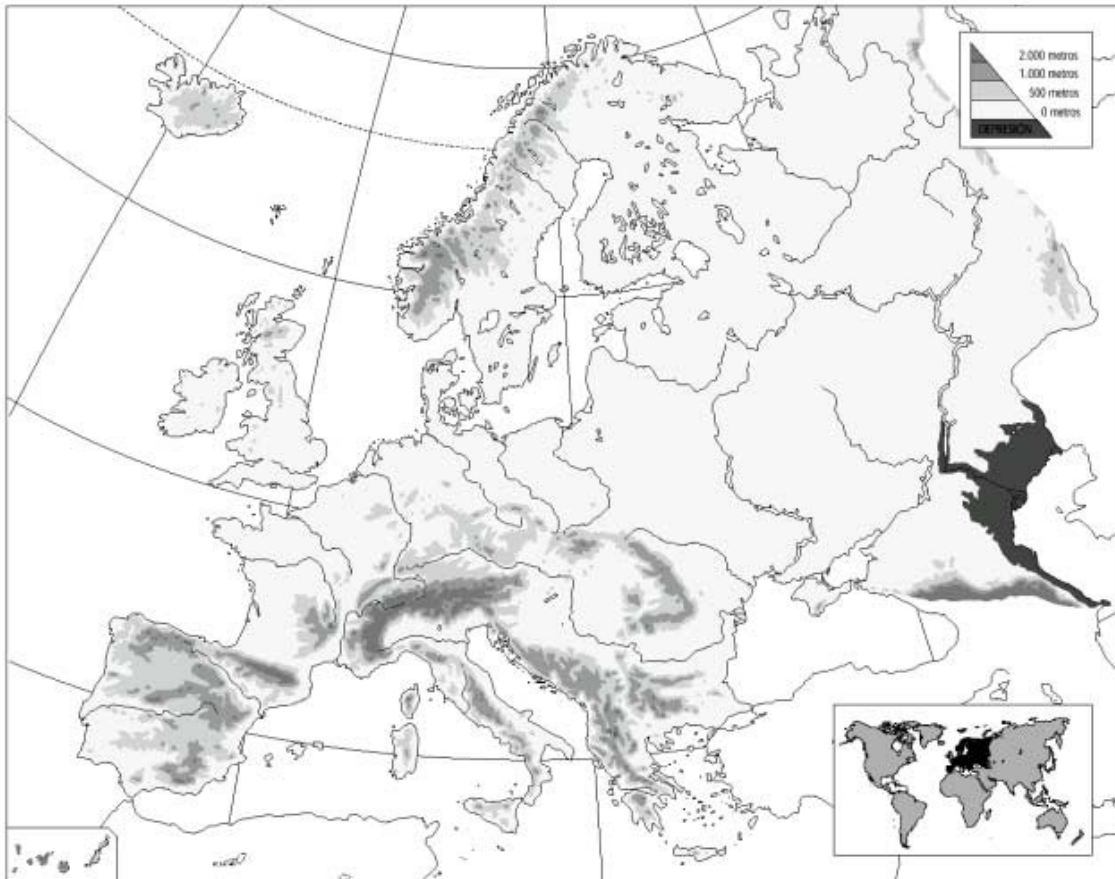
País	Capital
1.- Chipre	
2.- Suecia	
3.- Austria	
4.- Bielorrusia	
5.- Hungría	
6.- Bulgaria	
7.- Finlandia	
8.- Macedonia	
9.- Noruega	
10.- Lituania	



(1 punto) 3.- Mapa físico de Europa

Sítúe en el mapa los números correspondientes a los siguientes accidentes geográficos:

- 1.- Támesis
- 2.- Rin
- 3.- Don
- 4.- Loira
- 5.- Volga
- 6.- Apeninos
- 7.- Pirineos
- 8.- Urales
- 9.- Alpes
- 10.- Balcanes



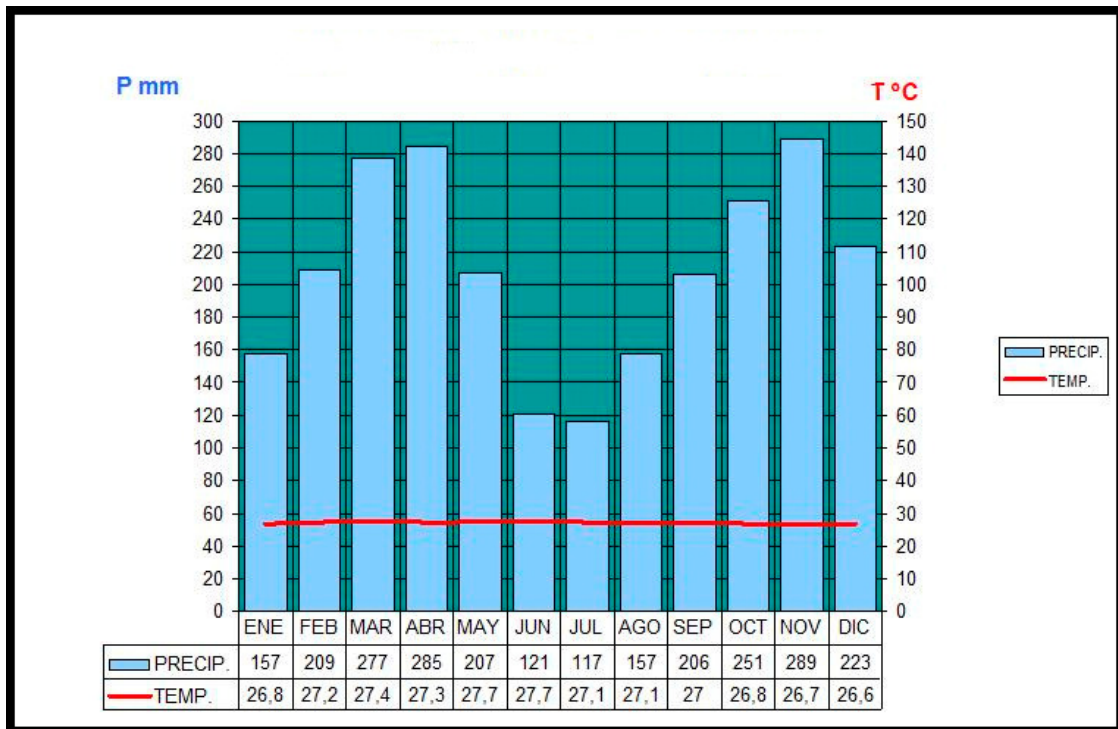
(1 punto) 4.- Mapa político de América

Sítúe en el mapa los números correspondientes a los siguientes países e indique su capital.

País	Capital
1.- Argentina	
2.- Cuba	
3.- Bolivia	
4.- Venezuela	
5.- Uruguay	



(2 puntos) 5.- Comente el siguiente climograma.



(2 puntos) 6.- Defina los siguientes conceptos:

Sector primario:

Población activa:

Deslocalización industrial:

Acuicultura:

(1 punto) 7.- Defina el concepto de ciudad y explique las funciones y la estructura urbana.

(2 puntos) 8.- Defina los siguientes conceptos:

Ilustración:

Imperialismo:

Socialismo utópico:

Caza de brujas:

(2 puntos) 9.- Enlace cada acontecimiento histórico con su fecha correspondiente.

Fecha	Acontecimiento	Número
1.- 1884	Inicio de la guerra de Corea	
2.- 1949	Tratado de Versalles	
3.- 1939	Conferencia de Berlín	
4.- 1929	Congreso de Viena	
5.- 1962	Proclamación de la República Popular China	
6.- 1950	Caída del muro de Berlín	
7.- 1931	Inicio de la segunda guerra mundial	
8.- 1815	Crack de la bolsa de Nueva York	
9.- 1918	Crisis de los misiles cubanos	
10.- 1989	Proclamación de la II República española	

(2 puntos) 10.- Enlace cada personaje con el hecho histórico correspondiente.

Personaje	Hecho histórico	Número
1.- Garibaldi	Régimen de Vichy	
2.- Sukarno	Unificación de Italia	
3.- Wilson	Revolución bolchevique	
4.- Mariscal Pétain	Perestroika	
5.- Lenin	Independencia de Indonesia	
6.- Bismarck	Trienio Liberal	
7.- Gorbachov	Régimen del Terror	
8.- Nehru	Sociedad de Naciones	
9.- Fernando VII	Independencia de India	
10.- Robespierre	Unificación de Alemania	

(2 puntos) 11.- Explique las causas de la Revolución Industrial.

(2 puntos) 12.- Explique el proceso de fundación y evolución de la Unión Europea.

Educación Plástica y Visual y Música (6 puntos)

(1 punto) 1.- Resuelva el siguiente problema:

¿A cuántos km. se encuentran en la realidad dos ciudades que aparecen a 3 cm. de distancia en un mapa de escala 1:500000?

(1 punto) 2.- Enlace cada artista con el movimiento artístico correspondiente.

Artista	Movimiento artístico	Número
1.- Picasso	Postimpresionismo	
2.- Matisse	Impresionismo	
3.- Antonio López	Fauvismo	
4.- Van Gogh	Cubismo	
5.- Renoir	Hiperrealismo	

(1 punto) 3.- Defina los siguientes conceptos:






Perspectiva cónica:

Bisectriz:

Mediatriz:

Boceto:

(1 punto) 4.- Indique los nombres de las siguientes figuras musicales:

(1 punto) 5.- Enlace cada compositor con su obra correspondiente.

Compositor	Obra	Número
1.- Beethoven	Bolero	
2.- Dvorak	Danubio Azul	
3.- Falla	Requiem	
4.- Mozart	Carmina Burana	
5.- Bach	Novena sinfonía	
6.- Chopin	Conciertos de Brandenburgo	
7.- Ravel	El amor brujo	
8.- Vivaldi	Nocturnos	
9.- Strauss	Sinfonía del nuevo mundo	
10.- Orff	Las cuatro estaciones	

(1 punto) 6.- Defina los siguientes conceptos:

Ópera:

Zarzuela:

Educación y Ciudadanía (4 puntos)

(2 puntos) 1.- Explique las características de los estados democráticos.

(2 puntos) 2.- Explique la importancia de los siguientes personajes en la lucha por las libertades y los derechos humanos:

Gandhi:

Martin Luther King:

Mary Wollstonecraft:

Nelson Mandela: