

**PRUEBAS LIBRES PARA LA OBTENCIÓN DEL TÍTULO DE  
GRADUADO EN EDUCACIÓN SECUNDARIA. Junio 2.012**

**ÁMBITO SOCIAL**

**Datos del aspirante**

**Apellidos.....**

**Nombre.....**


**D.N.I.....**

**INSTRUCCIONES GENERALES**

**Hora de comienzo 12,30 horas**

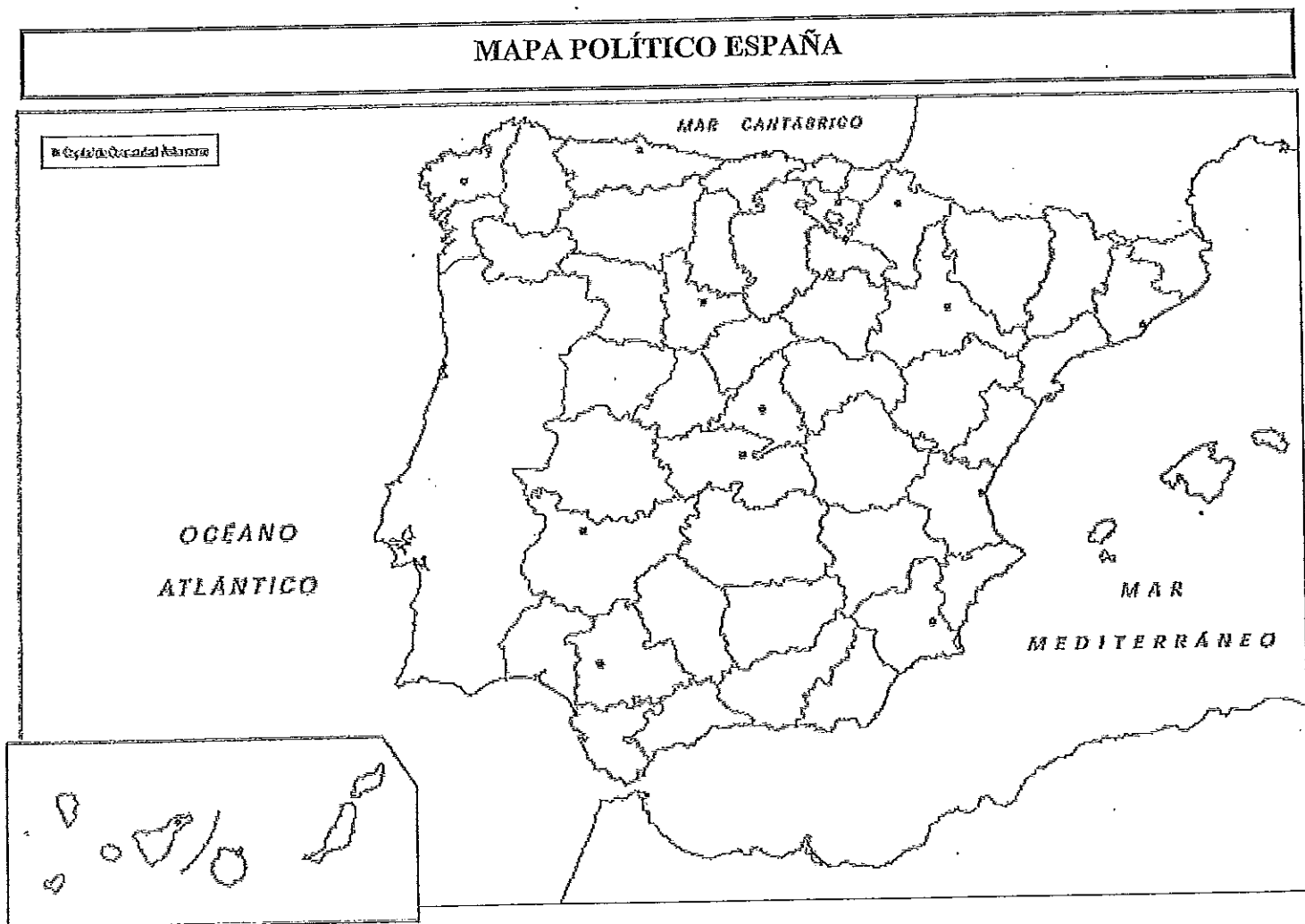
**Duración: Una hora y media**

- .- Haga una lectura pausada de las cuestiones antes de escribir la respuesta.**
- .- Realice primero aquellos ejercicios que tenga seguridad en su resolución. Deje para el final aquellos que tenga dudas.**
- .- Cuide la presentación y escriba el proceso de solución de forma ordenada.**
- .- Antes de entregar los ejercicios, revíselos minuciosamente.**



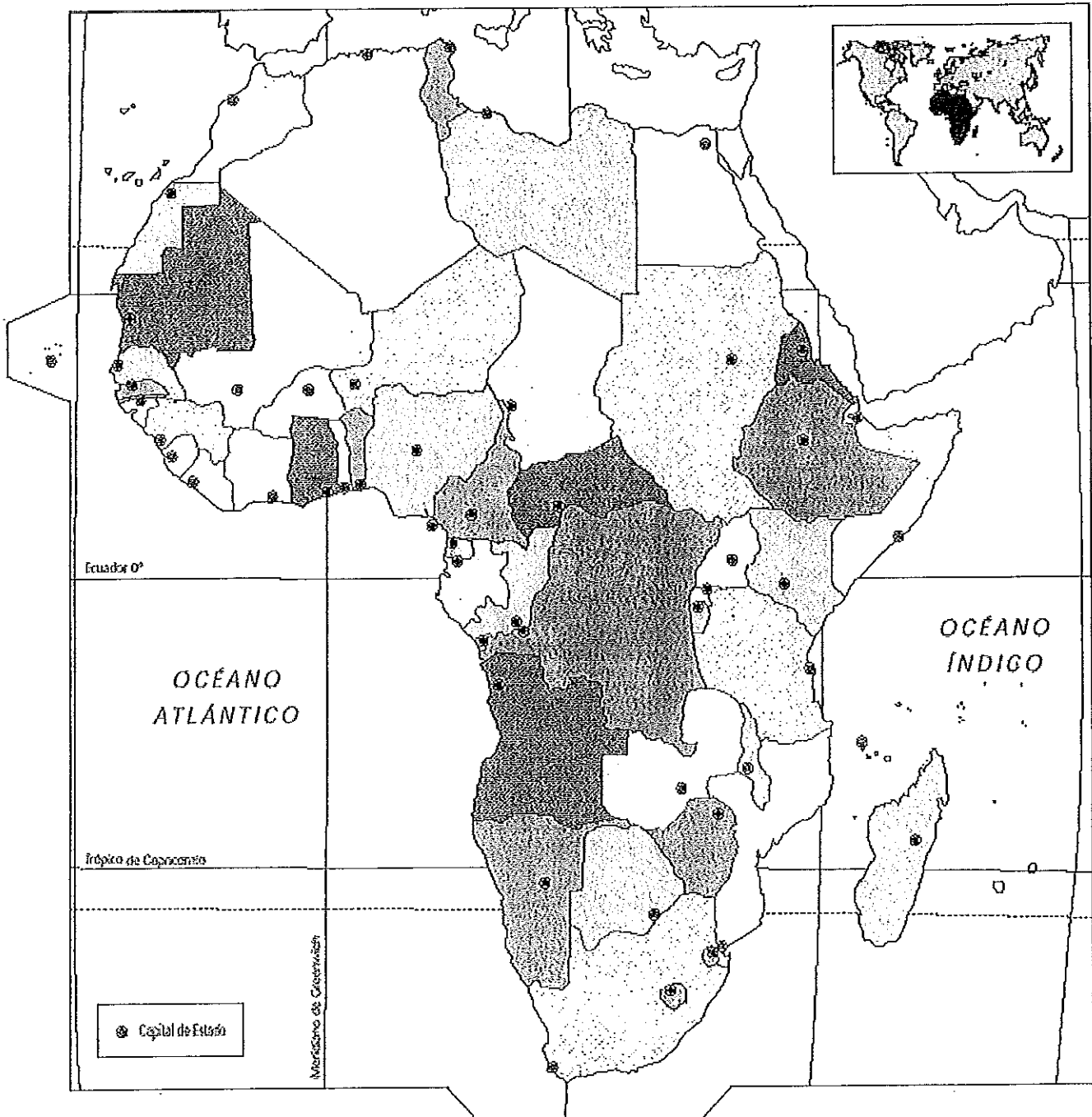
1.- Mapa político de España: (1 punto)

- Sitúa en el mapa las siguientes provincias. Cáceres; Huelva; Alicante; Ciudad Real; Segovia; Palencia; Castellón; Teruel; Lugo y Alicante.



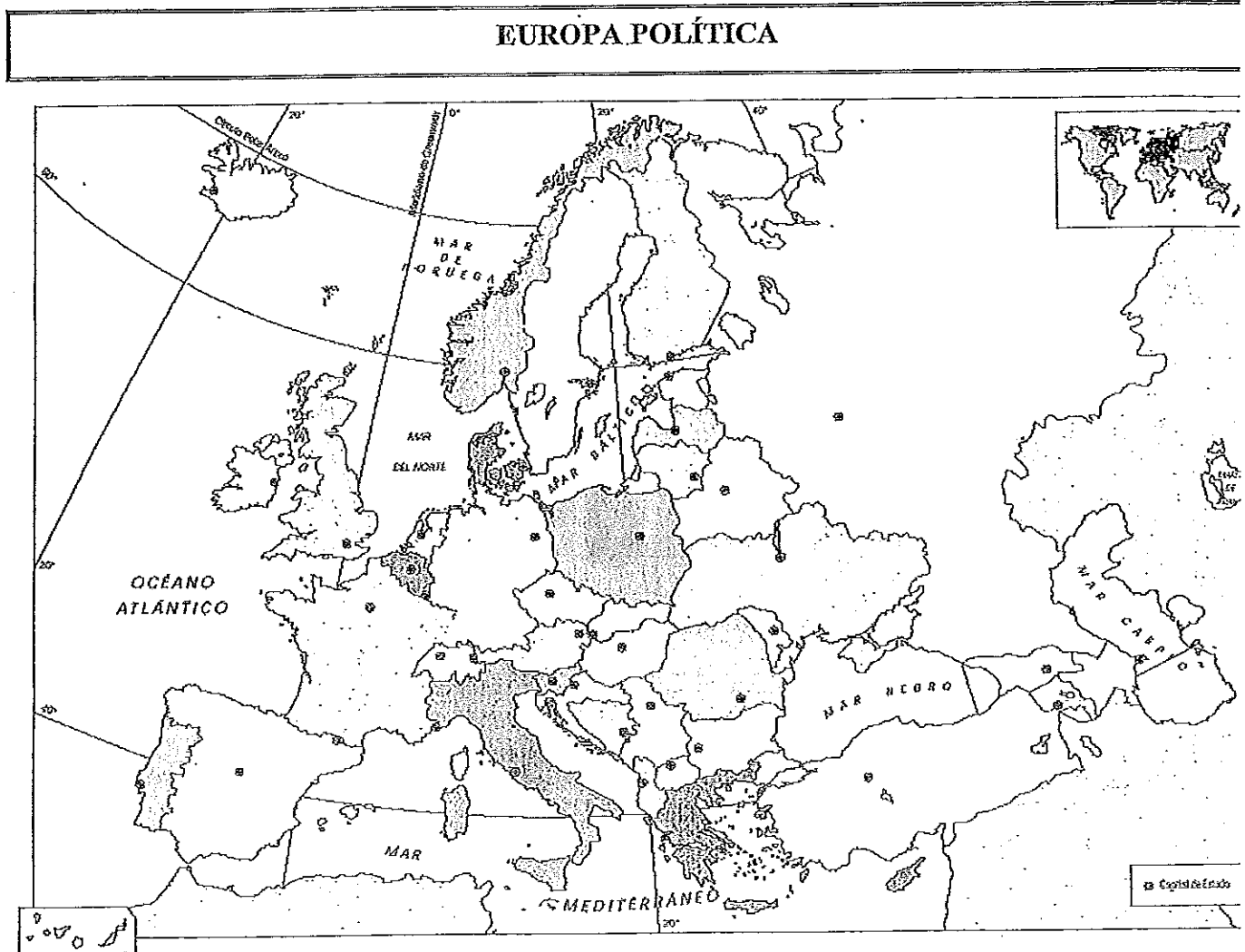
2.- Mapa político de África. (1 punto)

Sitúa en el mapa los siguientes estados: Nigeria; Argelia; Sudán; Angola; Kenia; Senegal; Bostwana; Mauritania; Somalia y Uganda.

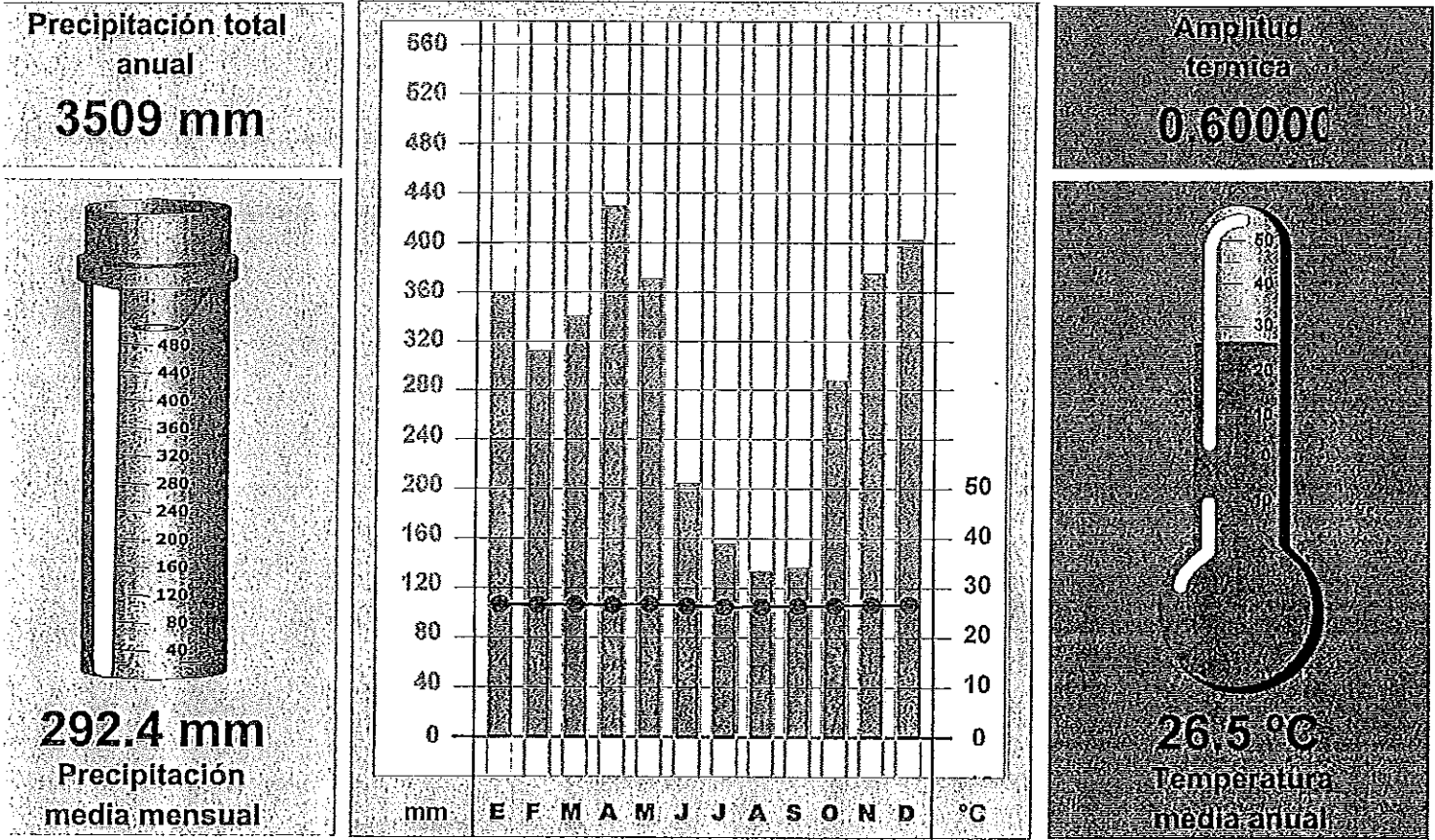


3.- Mapa político de Europa. (1 punto)

Sitúa en el mapa: Georgia; Estonia; Hungría; Noruega; Croacia; Islandia ; Armenia; Suiza; Bélgica y Polonia.



4.- Comenta el siguiente climograma. (tres puntos)



MEDIAS MENSUALES	ENE	FEB	MAR	ABR	MAY	JUN	JUL	AGO	SEP	OCT	NOV	DIC
Precipitación (mm)	360	312	340	429	371	205	156	134	137	288	375	402
Temperatura (°C)	26.7	26.6	26.7	26.6	26.8	26.4	26.2	26.3	26.4	26.5	26.6	26.7

**5.- La Union Europea: Su formación: sus objetivos y sus instituciones  
(tres puntos)**

**6.- Define los siguientes términos: (1 punto)**

**.- Aguas Jurisdiccionales.**

**.- Biomasa.**

**.- Conurbación.**

**.- Producto Interior Bruto.**



**7.- Las bases de la Revolución Industrial. (3 puntos)**

**8.- La unificación de Italia y Alemania. (tres puntos)**

9.- Define los siguientes términos: (dos puntos)

.- Antiguo Régimen.

.- Anarquismo.

.- Sufragio Censitario.

.- Guerra Fría.

10.- Sitúa en el contexto histórico a los siguientes personajes: (dos puntos)

.- Robespierre.

.- Práxedes Mateo Sagasta.

.- Cezanne.

.- Lenin.

## **Educación Plástica; Visual y Musical (seis puntos)**

**1.- Trabajamos en una escala 1:25. Si dos ciudades se encuentran distanciadas 45 kilómetros, ¿qué distancia corresponderá en el plano?. (1 punto).**

**2.- Clasifica los distintos colores en primarios y secundarios. Azul, violeta; naranja; verde; rojo y marrón. (1 punto)**

**3.- Dibuja: Una Apotema; una mediatriz; una tangente; un triángulo obtusángulo y un triángulo escaleno. (1 punto)**

**4.- Escribe el nombre de tres autores españoles de música clásica. (1 punto)**

**5.- Define ópera y cita tres autores de ópera y alguna de sus obras. (1 punto)**

**6.- Escribe lo que sepas sobre el Canto Gregoriano. (1 punto)**

## EDUCACIÓN Y CIUDADANÍA

1.- ¿Qué significa democracia? ¿Cuándo un estado funciona democráticamente?. (dos puntos)

2.- ¿Qué desafíos supone la globalización? (dos puntos).





